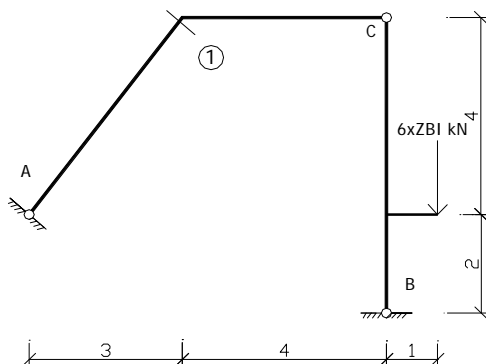
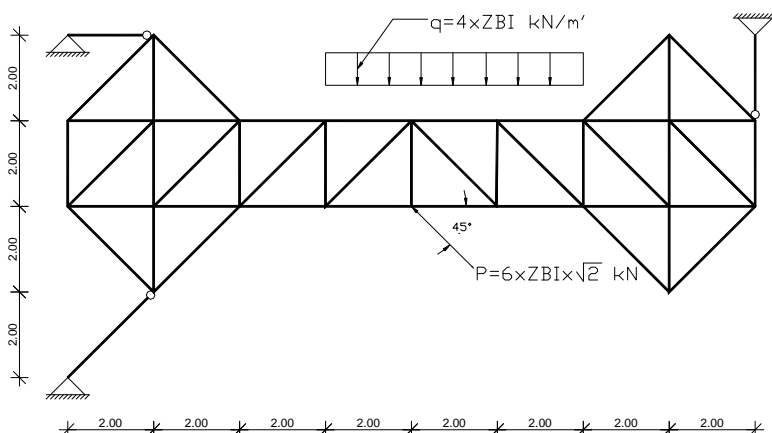


PISMENI DIO ISPITA

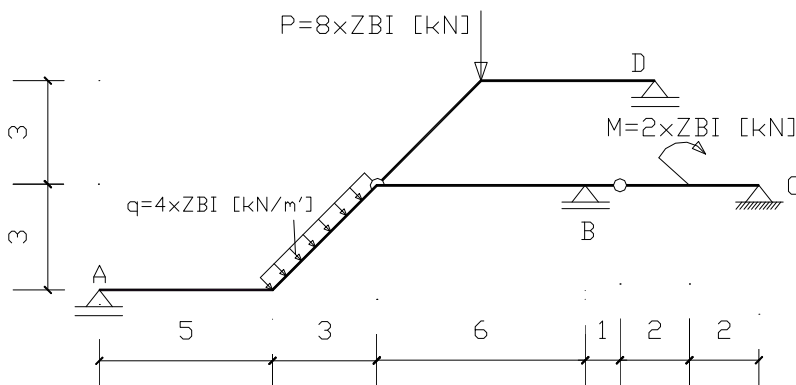
- 1) Za dati nosač i opterećenje nacrtati dijagrame unutrašnjih sila.



- 2) Za dati nosač i opterećenje odredite sile u označenim štapovima (metoda prema izboru studenta).



- 3) Za dati nosač i opterećenje odrediti:
 a) šemu rastavljanja nosača i reakcije.
 b) Nacrtati **dijagram momenata i transverzalnih sila**;
 c) Nacrtati uticajne linije za date presjeke **1 i 2** (sila se kreće po dijelu ABC)



Napomena: 1) ZBI=zadnji broj indeksa; 2)Crtanje dijagrama obavezno uz pomoć trouglova; 3) List sa pitanjima **obavezno ispuniti i predati** uz rješenja, u suprotnom rješenja će se smatrati nevažećim. 4) sve dužine su date u metrima [m]

Zadatke zdao:

v.asist. mr. Rašid Hadžović dipl.inž.građ.

Student: _____

Broj indeksa: _____
